

Nom et prénom : \_\_\_\_\_

Date du travail : \_\_\_\_\_

### Les consignes

En vous appuyant sur le site Web <http://www.journaldunet.com/economie/expliquez-moi/itineraire-tee-shirt/index.shtml> , répondez aux questions posées.

### Les compétences mises en œuvre

| Compétences  | Autoévaluation | Evaluation éventuelle |
|--|----------------|-----------------------|
| 1. Respecter des consignes de travail                                |                |                       |
| 2. Exploiter un diaporama et des textes                              |                |                       |
| 3. Cartographier un phénomène  |                |                       |
| 4. Maîtriser intelligemment le copier / coller (faire des citations) |                |                       |
| 5. Maîtriser un traitement de texte et soigner la présentation       |                |                       |
| 6. <i>Maîtriser le courrier électronique</i>                         |                |                       |






Légende : ☺ atteint

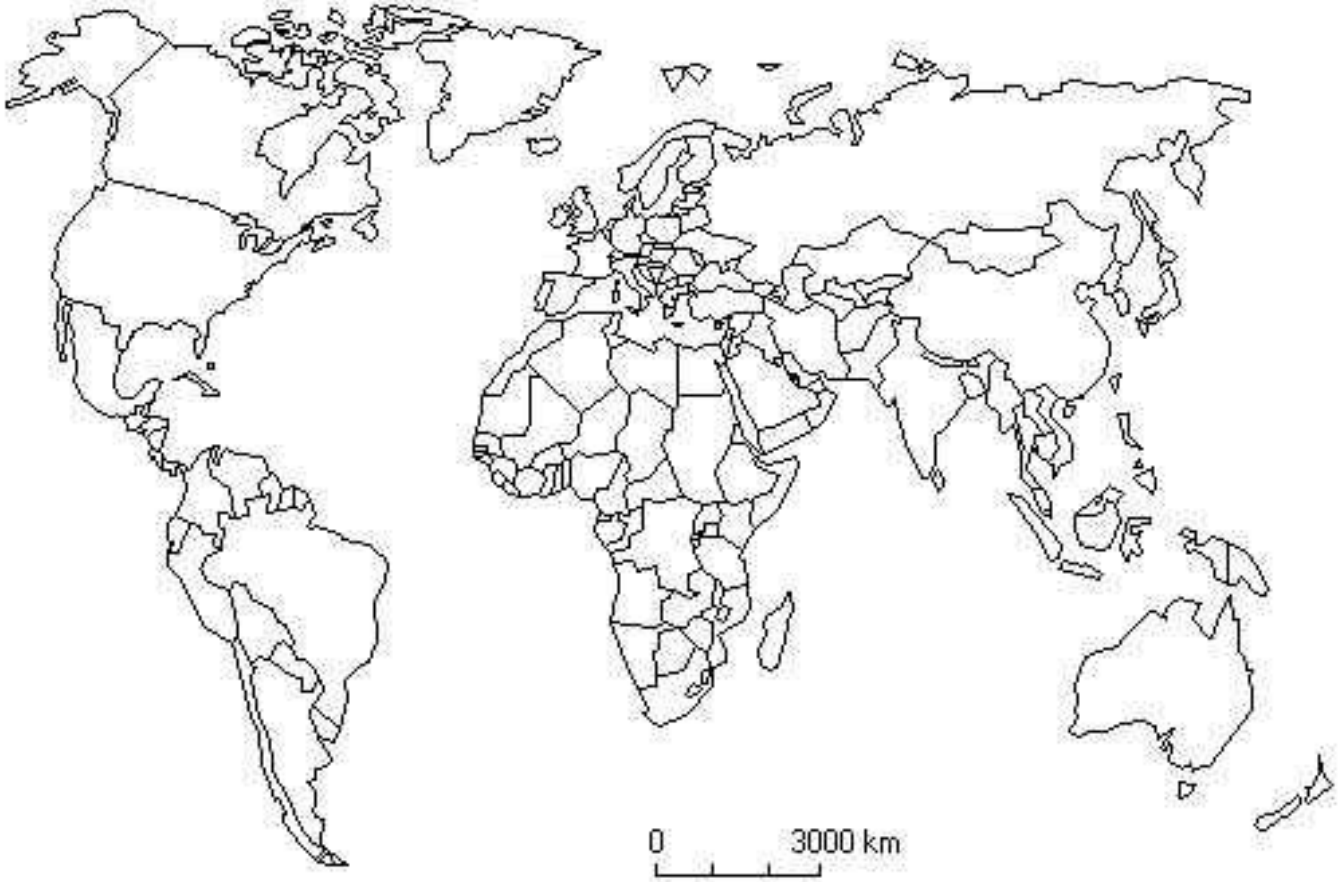
☹ non atteint

### La consigne

Traduisez l'épopée de ce tee-shirt sur le fond de carte fourni en :

- déposant le signe approprié (1ère colonne ; faites du copier/coller) au bon endroit sur le fond de carte
- en complétant les trous du texte de complément (3ème colonne)
- traçant les flux demandés de façon simple (numérotez-les en insérant les chiffres suivants (attention, on vous en propose 7, c'est trop... à vous d'en gardez le nombre le plus approprié : ① ② ③ ④ ⑤ ⑥ ⑦ )

| Signe  | Légende                                   | Compléments  |
|--|---|--|
|  | Production du coton, la matière première. | Une filière bien organisée, soutenue par des _____ provenant des institutions gouvernementales américaines.  |
|  | Fabrication du tee-shirt                  | Des entreprises _____ qui exportent par le biais d'une grande société d'_____.   |
|  | Consommation du tee-shirt neuf            | Le tee-shirt coûte à l'importateur _____ dollar(s) dont environ _____ % de taxes ; _____ % de produit et _____ % de frais de transport. <b>On ignore son prix de vente d'ailleurs ????</b> |
|  | Consommation du tee-shirt d'occasion      | Des consommateurs aisés avides de _____ ou bien des consommateurs très _____ trouvant de vieux tee-shirts à des prix très bas.   |
|  | Des flux multiples.                       | <b>Tracez les flux et numérotez-les selon leur ordre.</b>  |



0 3000 km

